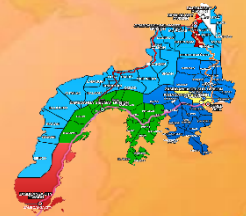




Republic of the Philippines
Department of Education
Regional Office IX, Zamboanga
Peninsula



2



Zest for **P**rogress
 Zeal of **P**artnership

MUSIC

Quarter 2 - Modyul 1:
 Melody Himig Ko, Tukuyin Mo



Name of Learner: _____

Grade & Section: _____

Name of School: _____

JANUARY
Malugiton

FEBRUARY
Mahigugmaon

MARCH
Matinabungan

APRIL
Matinahuron

MAY
Mahapsay og Malimpyo

JUNE
*Maabtik og Masunod sa
 Ohsaklong Oras*

JULY
Maantigo og Maabilidad

AUGUST
*Maginhuhunuan
 para sa Uban*

SEPTEMBER
Madaginton

OCTOBER
Matinud-anon

NOVEMBER
Masaligan

DECEMBER
Maalampon



Alamin

Sa modyul na ito ay makikilala ang mga ibat-ibang tono na bumubuo ng himig . Malalaman mo ang mga pangalan nila at ang taglay nilang taas o baba na tinatawag na pitch.

Pagkatapos ng araling ito, ang mga bata ay inaasahan na makakamit ang mga sumusunod:

A. Nakikilala ang mga tono na bumubuo ng himig,

MU2ME-IIa-1

B. Nakadudugtong ng larawan ng mga hayop at bagay sa mga nota ayon sa mga tunog nito.

C. Napahahalagahan ang tunog ng bawat so-fa silaba.



Subukin

Panuto :

Pagmasdang mabuti ang mga larawan at sagutin ang mga tanong sa ibaba.



Panuto : Sagutin ang sumusunod na mga tanong. Bilugan ang titik ng tamang sagot.

1. Ilang silaba ang makikita sa larawan?

- A. 7 B. 10 C. 8 D. 10

2. Alin sa mga sumusunod na silaba ang may pinakamataas na tono?

- A. do B. fa C. re D. la

3. Anong silaba ang nasa ikatlong hakbang?

- A. so B. mi C. ti D. do

4. Alin sa mga sumusunod na silaba ang nagpapakita ng pinakamababang tono?

- A. Fa B. so C. mi D. la

5. Pang ilang hakbang matatagpuan ang mababang do?

- A. Ikalimang hakbang C. unang hakbang
B. Ikaapat na hakbang D. ikawalong hakbang



Balikan

Panuto : Isulat ang tsek (/) sa patlang kung ang mga larawan ay nagpapakita ng ostinato at ekis (X) kung hindi.

1. _____



2. _____





Gawain 1

Pag-aralang mabuti ang larawan. Ano kaya ang tawag natin sa larawang ito?



do re mi fa so la ti do




Suriin

Ang pinakamababa ay si lower do, sumunod si re, mi, fa, so , la ti, at ang pinakamataas ay si higher do.

Si Mi ay nasa mababa ngunit mas mababa sa kanya si Do, samantalang si So ay mataas ngunit mas mataas sa kanya si Ti.

Masdan mo ang apat na batang ito at tukuyin mo ang tono nila.



Do

Mi

So

Ti

1. Sino ang mas mababa , si mi o si do?
- 2.Sino naman ang mas mataas si so o si Ti?
- 3.Nakita mo ba sa larawan ang pagkakaiba ng tono?
4. Mahalaga ba ang pagkakaiba ng tono ng bawat silaba?



Pagyamanin

Gawain 1:

Panuto : Isulat ang letrang **M** kung ang nota ay nasa mababang tono, **MM** kung ito ay nasa mas mababa, **MT** kung mataas, **at MMT** kung nasa pinakamataas na tono.Isulat sa ibabang bahagi ng nota.



1.____ 2.____ 3.____ 4. ____

Gawain 2:

Panuto : Idugtong sa pamamagitan ng linya ang mga larawan ng bagay at hayop ayon sa mga tunog nito mababa,mas mababa, mataas, mas mataas.

1.



2.



3.



Isaisip

Ang isang awit ay binubuo ng ibat-ibang himig maaaring ito ay mababa, mas mababa, mataas, at mas mataas. Ito ay tinatawag na pitch.



Isagawa

Kilalanin ang bawat larawan. Iguhit ang \triangle kung ang larawan ay may mataas na tunog, \star kung mas mataas, \bigcirc mababa at \square ang mas mababa. Sundin ang gabay na staff na may nakasulat na pangalan ng hayop.

_____ 1.




_____ 2.



_____ 3.




_____ 4.



Tayahin


Bilugan ang titik ng tamang sagot

1. Anong silaba ang may pinakamataas na tono?




- A. La B. Fa C. Mi D. Do

2. Ilang hakbang ang pagitan ng lower Do at La?



- A. 5 B. 3 C. 4 D. 2

3. Alin sa mga sumusunod na larawan na tumutukoy sa mababang tunog?



4. Sino sa mga sumusunod na kilalang mang-aawit ang may pinakamataas na boses?


A. Ogie Alcasid

C. Sharon Cunata

B. Jaya

D. Regine Velasquez

5. Piliin ang instrumentong pangmusika na may mababang tunog?



Region IX: Zamboanga Peninsula Hymn – Our Eden Land

Here the trees and flowers bloom
Here the breezes gently Blow,
Here the birds sing Merrily,
The liberty forever Stays,

Here the Badjaos roam the seas
Here the Samals live in peace
Here the Tausogs thrive so free
With the Yakans in unity

Gallant men And Ladies fair
Linger with love and care
Golden beams of sunrise and sunset
Are visions you'll never forget
Oh! That's Region IX

Hardworking people Abound,
Every valleys and Dale
Zamboangueños, Tagalogs, Bicolanos,
Cebuanos, Ilocanos, Subanons, Boholanos,
Ilongos,
All of them are proud and true
Region IX our Eden Land

Region IX
Our..
Eden...
Land...

The Footprints Prayer

One night I had a dream. I dreamed
that I was walking along the beach
with the LORD.

In the beach, there were two (2) sets
of footprints – one belong to me and
the other to the LORD.

Then, later, after a long walk, I
noticed only one set of footprints.

“And I ask the LORD. Why? Why?
Why did you leave me when I am sad
and helpless?”

And the LORD replied “My son, My
son, I have never left you. There was
only one (1) set of footprints in the
sand, because it was then that I
CARRIED YOU!

Trees by Joyce Kilmer

I think that I shall never see
A poem lovely as a tree.

A tree whose hungry mouth is prest
Against the earth's sweet flowing
breast;

A tree that looks at God all day,
And lifts her leafy arms to pray;

A tree that may in Summer wear
A nest of robins in her hair;

Upon whose bosom snow has lain;
Who intimately lives with rain.

Poems are made by fools like me,
But only God can make a tree.



Subukin

1. C

2. A

3. B

4. C

5. C

6.

Balikan

1. /

2. X

3. /

Surjin

1. Do

2. Ti

3. OO/opo

4. OO/opo

Pagymanin

Gawain 1

1. M

2. MM

3. MMT

4. MT

Gawain 2

Kanding, ibon, baka

Kagawa



4.

Tayahin

1. D

2. C

3. D

4. D

5. A