

Government Property
NOT FOR SALE

3

MATHEMATICS

Quarter 1 - Week 3

**Ordinal Numbers Gikan
sa Kinaunahan Hangtod sa ika-100
Pag-ila sa Coins ug Bills
nga Hangtod sa PHP 1 000**



Department of Education • Republic of the Philippines

Mathematics - Grade 3

Alternative Delivery Mode

Quarter 1 - Week 3: Ordinal Numbers Gikan sa Kinaunahan Hangtod sa ika-100

Pag-ila sa Coins ug Bills nga Hangtod sa PHP 1 000

First Edition, 2020

Republic Act 8293, section 176 states that: No copyright shall subsist in any work of the Government of the Philippines. However, prior approval of the government agency or office wherein the work is created shall be necessary for exploitation of such work of profit. Such agency or office may, among other things, impose as a condition the payment of royalties.

Borrowed materials (i.e., songs, stories, poems, pictures, photos, brand names, trademarks, etc.) included in this book are owned by their respective copyright holders. Every effort has been exerted to locate and seek permission to use these materials from their respective copyright owners. The publisher and authors do not represent nor claim ownership over them.

Development Team of the Module

Authors: Jewelrose M. Emano, Michelle L. Taneca

Reviewers: Prescilla C. Daus Mary Joy P. Rebote Maria Socorro D. Ramos

Dulce L. Villanueva Heidi E. Palmada Elsa P. Tan

Doris T. Tirol Alberto V. Berondo Jocelyn T. Balino

Rosabella B. Onipa Evelyn L. Salem Noralyn P. Ronolo

Nelita J. Caballero Romel B. Leono Paul Patrick T. Padua

Illustrator: Jan Ryan S. Cardente Mars G. Sumalinog

Layout Artist: Manuel D. Dinlayan II, PDO II

Management Team:

Chairperson: Dr. Victoria V. Gazo, CESO V
Schools Division Superintendent

Co-Chairperson: Sunny Ray F. Amit
Asst. Schools Division Superintendent

Ralph T. Quirog
CES, CID

Members: Purisima J. Yap
EPS-LRMS
Imelda S. Bentillo
Name of EPS Incharge LA
JOVY G. MOLINA
Name of PSDS Partner

Printed in the Philippines by Department of Education
Division of Malaybalay City
Office Address: Sayre Highway P-6, Casisang, Malaybalay City
Telefax: (088) 314-0094
Email Address: malaybalay.city@deped.gov.ph

Mathematics

Quarter 1 – Week 3

Ordinal Numbers Gikan sa Kinaunahan Hangtod sa ika-100 Pag-ila sa Coins ug Bills nga Hangtod sa PHP 1 000

This instructional material was collaboratively developed and reviewed by educators from public and private schools, colleges, and or/universities. We encourage teachers and other education stakeholders to email their feedback, comments, and recommendations to the Department of Education at action@deped.gov.ph.





Alamin

Kini nga modyul gidisenyo ug gisulat para sa imo. Ania kini aron matabangan ka nga mailhan ang mga **ordinal numbers** gikan sa una hangtod sa ika-100 ug ang mga sensilyo og papel nga kwarta.

Nabahin kini sa duha ka Aralin:

- Aralin 1 - **Ordinal Numbers** gikan sa kinaunahan hangtod sa ika-100.
- Aralin 2 – Pag-ila sa **Coins** ug **Bills** nga hangtod PHP 1 000.

Human niini nga modyul, gidahum nga ikaw:

1. Masunod-sunod ang mga numero gamit ang iyang **order** ug mahanas ang **ordering skills**.
2. Makaila sa mga sensilyo/papel nga kwarta gamit ang mga simbolo ug mahimong hanas sa pag-ihap.
3. Maipakita ang pagdaginot sa kwarta.



Subukin

A. Tan-awa ang larawan sa ubos ug tubaga ang mga pangutana niini.



1. Kinsa ang ika-2 nga nagdagan? _____
2. Ika pila si Roman sa midagan nga mga bata? _____
3. Sa lima ka bata nga nagdagan, ika pila man si Gino? _____

B. Isulat ang kantidad sa simbolo sa matag sensilyo/papel nga kuwarta



Aralin 1

Ordinal Numbers Gikan sa Kinaunahan Hangtod ika-100

Aduna ba kamoy igsoon/mga igsoon? Pila man kabuok? Kinsa ang kinamagulangan? Kinsa ang kinamanghuran? Ikapila man ka?

Kung nakahibalo ka sa imong posisyon kung ika pila ka nga igsoon, sigurado ako nga adunay kay **background** sa mga numerong ordinal kon **ordinal numbers**.



Balikan

Isulat ang simbolo sa mosunod nga **ordinal numbers**.

1. ika disesiyete _____

2. ika bayente tres _____

3. ika kuwarenta i-tres _____

Isulat ang nawalang **ordinal numbers**.

4. Ika-2, ika-4. Ika-6. Ika-8, _____


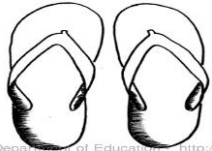


















5. ika-10, ika-20, ika-30, _____



Tuklasin

Ayuha pagtan-aw ang mga larawan nga anaa sa sulod sa kahon, ug tubaga ang mga mosunod nga mga pangutana.

1. Ika pila ang isda sa mga hanay sa larawan? _____
2. Unsa nga hulagway ang anaa sa ika-18 nga puwesto? _____
3. Unsa nga puwesto o posisyon ang sunod sa lapis? _____
4. Unsa ang tawag sa mga numero nga naghatag sa tukma nga posisyon sa usa ka butang? _____

				
ika-1	ika-2	ika-3	ika-4	ika-5
				
ika-6	ika-7	ika-8	ika-9	ika-10
				
ika-11	ika-12	ika-13	ika-14	ika-15
				
ika-16	ika-17	ika-18	ika-19	ika-20



Suriin

Atong balikan ug tubagon ang mga pangutana sa Tuklasin.

1. Ang isda anaa sa ika-11 nga puwesto
2. Ang bao anaa sa ika-18 nga puwesto.
3. Ika-5 nga puwesto o posisyon ang sunod sa lapis.
4. **Ordinal numbers** ang tawag sa mga numero nga naghatag sa tukma nga puwesto o posisyon sa usa ka butang .

Ang **ordinal numbers** mahimong isulat sa simbolo o pulong.

Pananglitan:

Ordinal Numbers

Simbolo	Pulong
ika-1	una
ika-2	ika duha
ika-3	Ika tulo
ika-4	ika upat
ika-5	Ika lima
ika-6	ika unom
ika-7	Ika pito
ika-8	ika walo
ika-9	Ika siyam
ika-10	Ika napulo



Pagyamanin

ika-2

ika-14

ika-25

ika-33

ika-50

ika-75

Basaha ug kumpletaha ang mosunod nga sitwasyon. Pilia sa kahon ang saktong tubag.

1. Ang pasko gisaulog sa _____ nga adlaw sa Disyembre.
2. Ang **Valentines Day** ginasaug sa _____ nga adlaw sa Pebrero.
3. Adunay 35 ka tinun-an si Mrs. Loren nga naa sa lista. Si Teresa ikaduha gikan sa kinaulahan sa lista. Si Teresa _____ sa lista sa mga tinun-an.
4. Singkwenta na ang edad ni mama karon, nagsaulog siya sa iyang _____ nga **birthday**.
5. Si Lolo mo 75 na ka tuig karong tuiga. Iyang saulogon iyang _____ nga **birthday**.



Isaisip

Isulat ang pulong aron makompleto ang ideya mahitungod sa **ordinal numbers**.

- (1) _____ ang naghatag sa tukma nga posisyon sa usa ka butang, tawo o hayop segun sa ilang nahimutangan. Kini mahimong isulat sa (2) _____ o sa (3) _____ .



Isagawa

Basaha ang mga buluhaton ni Ading sa dili pa siya moadto sa eskuwelahan. Ihan-ay kini gamit ang mga simbolo sa **ordinal numbers** (ika-1 hangtod sa ika-5).

Si Ading anaa sa ika-3 nga grado sa elementarya. Pagmata niya sa buntag hipuson niya ang iyang higdaan ug magluto dayon siya sa ilang panahaw ug sa ilang balon paniudto. Pagkahuman niini, maligo siya ug dayon ng-ilis sa iyang unipormi, dayon ayha pa siya moadto sa eskuwelahan.

- _____ Pag-ilis sa unipormi
- _____ Pagluto sa pamahaw ug balon
- _____ Maligo
- _____ Paghipos sa iyang higdaan
- _____ Pag-adto sa eskuwelahan

Aralin 2

Pag-ila sa Coins ug Bills Hangtod PHP1 000

Pamilyar ba kamo sa sensilyo nga kuwarta ug papel nga kuwarta sa Pilipinas? Unsay kinadak-an nga kantidad sa papel nga kuwarta sa Pilipinas? Ang sensilyo nga kuwarta?



Balikan

Isulat ang simbolo sa mosunod nga **ordinal numbers**.

1. ika otsenta i-otso _____
2. ika napulo _____
3. ika lima _____

Isulat ang pulong sa mosunod nga **ordinal numbers**

4. ika-12 _____



5. ika-10 _____



Tuklasin

Basaha ang mosunod nga sitwasyon:

Si Michelle miabli sa iyang alkansiya. Mao kini ang sulod nga mga kuwarta.






<i>Kantidad sa Kuwarta</i>	<i>Kolor</i>	<i>Simbolo nga Hulagway/Desinyo</i>
	Silver	Andres Bonifacio
	Silver	Apolinario Mabini
	Orange	Manuel L. Quezon
	Red	Sergio Osmenia
	Violet	Manuel A. Roxas
	Green	Diosdado P. Macapagal


	Yellow	Corazon C. Aquino, Benigno S. Aquino Jr.
	Blue	Jose Abad Santos Josefa Llanes Escoda Vicente Lim



Suriin

Ilha ang matag papel/sensilyo nga kuwarta dayon isulat ang kolor ug kantidad niini.

	Kolor	Kantidad sa Simbolo
1. 		
2. 		
3. 		
4. 		
5. 		








Pagyamanin

Idugtong ang **Column A** ug ang **Column B**. Unsang dinominasyon sa kuwarta nga makita ang mga nawong sa Column B. Isulat ang letra sa hustong tubag.

Column A

Column B

___ 1.		A. Emilio Aguinaldo
___ 2.		B. Diosdado Macapagal
___ 3.		C. Jose Abad Santos
___ 4.		D. Manuel A. Roxas
___ 5.		E. Andres Bonifacio



Isaisip

Unsaon nato pag-ila ang sensilyo ug papel nga kuwarta? Sumpayi ug isulat ang nawalang mga letra.

Ang sensilyo ug papel nga kuwarta mailhan pinaagi sa iyang **di** _____, **ko** _____ ug **na** _____ nga naimprinta niini.



Isagawa

PHP20 og PHP 50

PHP 1.00

PHP 2 000

PHP 100

PHP 500

PHP 100

Basaha ang gihatag nga sitwasyon. Unya tubaga ang mosunod nga mga pangutana. Pilia sa kahon ang saktong tubag.

1. Si Abbie adunay usa ka pula ug usa ka **orange** nga mga **bills** nga kuwarta. Unsay dinominasyon sa iyang kuwarta? _____
2. Nakakolekta si Joey ug upat ka 25-sentabos nga sensilyo. Pila ang kantidad sa sensilyo ni Joey? _____
3. Mikita si Junie og PHP50 sa buntag og PHP50 sa hapon. Pila iyang kitaon sa usa ka adlaw? _____
4. Si Junjun adunay duha ka papel nga kwarta nga kolor **blue**, Pila man ang kantidad sa papel nga kuwarta ni Junjun? _____
5. Si Nene nakakita og usa ka papel nga kuwarta. Ang papel nga kuwarta kolor **violet**. Pila man ang papel nga kuwarta ang nakita ni Nene? _____



Tayahin

Pilia ang mas labing tukma nga tubag. Isulat sa papel

1. Si Junjun ang kinamanghuran sa upat ka magsoon, Ikapila si Junjun?
A. una B. ika duha C. ika tulo D. ika upat
2. Naapil sa **top 3** si Neneng sa mga nag-**graduate**, nagsunod siya sa **top 2**, Ika pila man si Neneng?
A. Ika-1 B. ika-2 C. ika-3 D. ika-4
3. Unsa nga **ordinal numbers** nga ika-4 human sa ika-9 nga posisyon?
A. Ika-13 B. ika-14 C. ika-15 D. ika-19

4. Kang kinsang hulagway ang naimprinta sa 1-**peso coin**?

- A. Andres Bonifacio B. Jose Rizal
C. Apolinario Mabini D. wala

5. Unsay kolor sa 100-**peso bill**?

- A. **blue** b. **orange** c. **red** d. **violet**



Karagdagang Gawain

A. Ordinal Numbers

Ihatag ang pulong sa pahayag nga ang “Ang” maoy sinugdanan sa gihatag nga posisyon

Ang mga batang lalaki ug babaye malipayong nagdula sa **playground**.



1. Ika-4 nga pulong

3. Ika-2 nga pulong

2. Ika-7 nga pulong

B. Coins and Bills

Isulat ang matag **dinominasyon** sa papel nga kuwarta kalakip ang mga hulagway sa tao nga nakaimprinta niini.

Papel nga kuwarta	Nawong	Kantidad
4.  shorturl.at/fPRW7		
5.  shorturl.at/fPRW7		



Susi sa Pagwawasto

KARAGDAGANG GAWAIN

A. 1. Ialaki
2. malipayong
3. mga

B. 4. MANUEL L. QUEZON
5. MANUEL ROXES

KANTIDAD SA SIMBOLO
BAYENTE PESOS/ PHP20
USA KA GATOS/PHP100

Pagayanan

1. C
2. B
3. D
4. A
5. E

Isagawa

1. PHP 20 og PHP
50
2. PHP 1.00
3. PHP 100
4. PHP 2 000
5. PHP 100

Tayahin

1. D 5. D
2. C
3. A
4. B

Aralin 2

Balikan

1. ika-88
2. ika 10
3. ika-5
4. ika dose
5. ika napulo

Coins ug Bills

Sutin
1. Yellow/Corazon C.
Aquino, Benigno S.
Aquino Jr./PHP 500
2. green/Diosdado P.
Macapagal/PHP 200
3. red/ Sergio
Osmentia/PHP 50
4. silver/Andres
Bonifacio/PHP 5
5. silver/ Jose
Rizal/PHP 1.00

Isaisip

depinominsyon
kolot
nawong

Pagayanan

1. ika-25
2. ika-14
3. ika-33
4. ika-50
5. ika-75

Isaisip

1. Ordinal numbers
2. simbolo
3. pulong

Isagawa

ika-4 Pag-ilis ug unipormi
ika-2 Pagluto sa pamahaw/balon
ika-3 Malligo
ika-1 Paghipos sa iyang higdaan
ika-5 Pag-adtto eskuwelahan

Aralin 1

SUBUKIN

1. Anton
2. ika-4
3. ika-3
4. PHP 5
5. PHP 1 000

Balikan

1. ika-17
2. ika-23
3. ika-43
4. ika-10
5. ika-40

Tuklasin

1. ika-11
2. bao
3. ika-4
4. Ordinal Numbers

Sanggunian

Chingcuangco, Ofelia G. et al. 2017, Mathematics 3:
Sinugbuanong Bisaya, Meralco Avenue, Pasig City,
Pihilippines 1600, Department of Education

<https://lrmds.deped.gov.ph/create/details/434>

<https://lrmds.deped.gov.ph/create/category/27>

<https://cutt.ly/jyXQq>

For Inquiries or feedback, please write or call:

Department of Education - Division of Malaybalay City

Office Address: Sayre Highway P-6, Casisang, Malaybalay City

Telefax: (088) 314-0094

Email Address: malaybalay.city@deped.gov.ph

