


# Araling Panlipunan

## Unang Markahan – Modyul 2: Linggo 2 Lokasyon ng mga Lalawigan sa Sariling Rehiyon Batay sa Direksiyon

Josephine F. Bagarinao  
Crispina P. Pairat



SUPPORT MATERIAL FOR INDEPENDENT LEARNING ENGAGEMENT (SMILE)

A Joint Project of the  
SCHOOLS DIVISION OF DIPOLOG CITY  
and the  
DIPOLOG CITY GOVERNMENT

**Araling Panlipunan – Ikatlong Baitang**  
**Support Material for Independent Learning Engagement (SMILE)**  
**Unang Markahan – Modyul 2: Nasusuri ang Kinalalagyan ng mga**  
**Lalawigan ng Sariling Rehiyon Batay sa**  
**mga nakapaligid dito, gamit ang**  
**pangunahing direksiyon**

**Unang Edisyon, 2020**

Isinasaad sa Batas Republika 8293, Seksiyon 176 na: Hindi maaaring magkaroon ng karapatang-sipi sa anomang akda ang Pamahalaan ng Pilipinas. Gayonpaman, kailangan muna ang pahintulot ng ahensiya o tanggapan ng pamahalaan na naghanda ng akda kung ito ay pagkakakitaan. Kabilang sa mga maaaring gawin ng nasabing ahensiya o tanggapan ay ang pagtakda ng kaukulang bayad.

Ang mga akda (kuwento, seleksiyon, tula, awit, larawan, ngalan ng produkto o brand name, tatak o trademark, palabas sa telebisyon, pelikula, atbp.) na ginamit sa modyul na ito ay nagtataglay ng karapatang-ari ng mga iyon. Pinagsumikapang matunton ang mga ito upang makuha ang pahintulot sa paggamit ng materyales. Hindi inaangkin ng mga tagapaglathala at mga may-akda ang karapatang-aring iyon. Ang anomang gamit maliban sa modyul na ito ay kinakailangan ng pahintulot mula sa mga orihinal na may-akda ng mga ito.

Walang anumang parte ng materyales na ito ang maaaring kopyahin o ilimbag sa anomang paraan nang walang pahintulot sa Kagawaran.

**Bumuo sa Pagsusulat ng Modyul**

**Manunulat: Josephine F. Bagarinao and Crispina P. Pairat**

**Editor: Crispina P. Pairat**

**Tagasuri: Vilma C. Velasco**

**Tagaguhit:**

**Tagalapat: Vicente S. Araneta Jr. & Rose Marie Crez H. Apilan**

**Tagapamahala:** Virgilio P. Batan -Schools Division Superintendent  
Jay S. Montealto -Asst. Schools Division Superintendent  
Amelinda D. Montero -Chief Education Supervisor, CID  
Nur N. Hussien -Chief Education Supervisor, SGOD  
Ronillo S. Yarag -Education Program Supervisor, LRMS  
Leo Martinno O. Alejo -Project Development Officer II, LRMS

**Gipatik sa Pilipinas sa**  
**Department of Education – Region IX – Dipolog City Schools Division**

Office Address: Purok Farmers, Olingan, Dipolog City

Telefax: (065) 212-6986

E-mail Address: dipolog.city@deped.gov.ph



## **Angay Makat- onan**

Nahibalo ka ba kung asa makita ang mga probinsya dinhi sa imong Rehiyon? Makit-an sa mapa ang una ug ikaduhang direksiyon ug ang mga distansiya sa mga lugar sa kada usa. Aron madali makaplagan ang nahimutangan sa usa ka lugar, kinahanglan masabtan ug makat-unan ang ang una ug ikaduhang direksiyon.

Pinaagi niining modyul, kinahanglan na:

1. Makaplagan nimo ang nahimutangan sa mga probinsiya sa rehiyon gamit ang una ug ikaduhang direksiyon



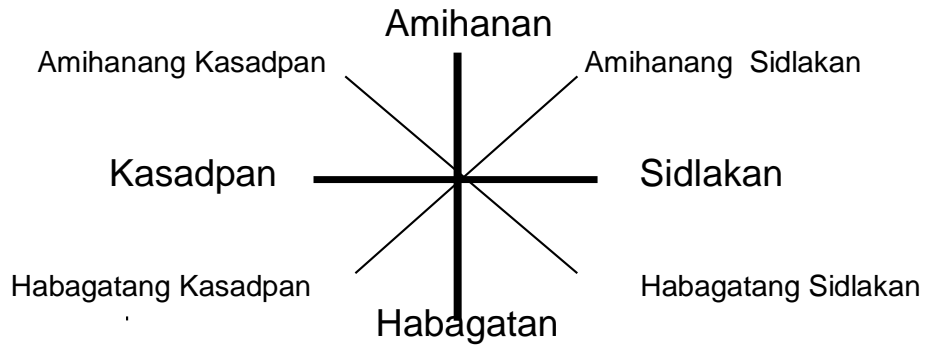
## **Sulayi Kini:**

1. Unsa ang mga unang direksiyon?
  - A. Kasadpan, Sidlakan
  - B. Amihan, Habagatan,
  - C. Amihanan, Habagatan, Sidlakan, Kasadpan
  - D. Compass Rose
2. Unsa ang mga ikaduhang direksiyon
  - A. Amihanang Kasadpan
  - B. Amihanang Sidlakan
  - C. Habagatang Sidlakan
  - D. lahat nabanggit ay tama
3. Dunay mga mapa nga naggamit ug mga simbolo para itudlo kung asa ang Amihan. Unsa kini?
  - A. North Arrow
  - B. Compass Rose
  - C. Cardinal
  - D. Ordinal
4. Hain niini ang timailhan sa Kasadpang Sidlakan?
  - A. K
  - B. A
  - C. KS
  - D. H
5. Dali ninyo matultulan ang nahimutangan sa usa ka lugar pinaagi sa paggamit ug \_\_\_\_\_.
  - A. timailhan
  - B. mapa
  - C. hulagway
  - D. badlis



## Baliki Kini

Sa miaging leksiyon, inyong natun- an ang mga nagkalain-laing simbolo sa mapa. Ug karon, atong pagahisgotan ang una ug ikaduhang direksiyon.



Tan-awa ang hulagway sa taas, tubaga ang mga pangutana:

1. Asa niini ang mga unang direksiyon?

\_\_\_\_\_

\_\_\_\_\_

2. Asa niini ang ikaduhang direksiyon?

\_\_\_\_\_

\_\_\_\_\_

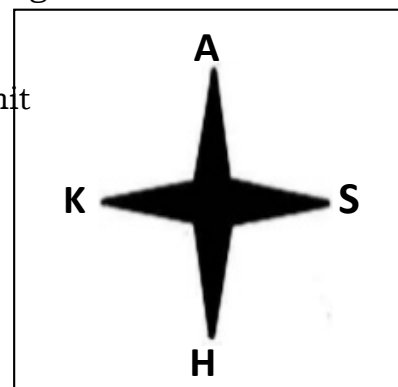


## Hibal-i Kini:

Ang tanang mapa nakabasi sa amihanan. Kung tan-awon ang mapa makita sa usa ka parte niini ang susama nga mga timailhan, **A** (amihanan) **H** (Habagatan) **S** (Sidlakan) **K** (Kasadpan )

Ang imong kahibalo sa mga direksiyon makatabang ug dako kanimo aron ka mahanas sa pagbasa ug mapa.

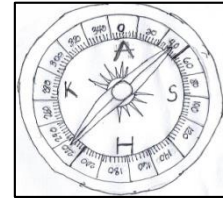
Adunay mga mapa nga sama niini ang gigamit na timailhan. Kini ang “ **Compass Rose** ” Gipakita dinhi ang **Cardinal** nga direksiyon o ang unang direksiyon, ang **Amihanan, Habagatan, Sidlakan ug Kasadpan**. Nagtudlo kini sa Amihanan, sa tuong bahin niini ang Sidlakan sa may walang bahin niini mao ang Kasadpan ug Habagatan ang atbang sa Amihanan.



Aduna usab nga mapa na naggamit ug **“North Arrow”** aron matabangan ka pagkaplag sa Amihanan.



Kini mao ang **Compass**. Kanunay kining nagatudlo sa Amihanan. Nakit-an naba nimo ang mga unang direksiyon na nakasulat dinhi? Nakagamit na ba ka ani? Kini usa ka galamiton aron makaplagaan ang insaktong lokasyon. Gigamit kini sa mga Iskawts ug mga biyahedor aron dili sila mawala.



Kung ang usa ka lugar dili makita sa insaktong **Cardinal** o mga nag-unang direksiyon ug kini naa sa tunga-tunga sa Amihanan, Sidlakan, Habagatan o Kasadpan, kinahangalan ta mogamit sa mga ikaduhang direksiyon. Kini gitawag ug **Ordinal** o ikaduhang direksiyon.



## ***Susiha Kini***

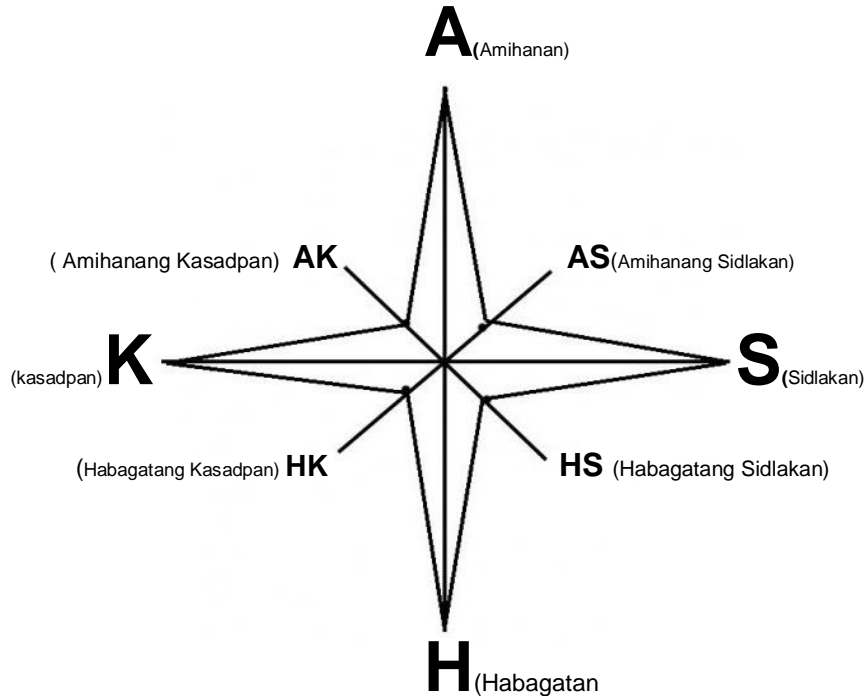
Kung ang lugar anaa nahimutang sa tunga-tunga sa Amihanan ug Sidlakan kini gitawag ug **Amihanang sidlakan (AS)**.

Kung ang lugar anaa nahimutang sa tunga-tunga sa Habagatan ug Sidlakan, kini pagatawgon ug **Habagatang Sidlakan (HS)**

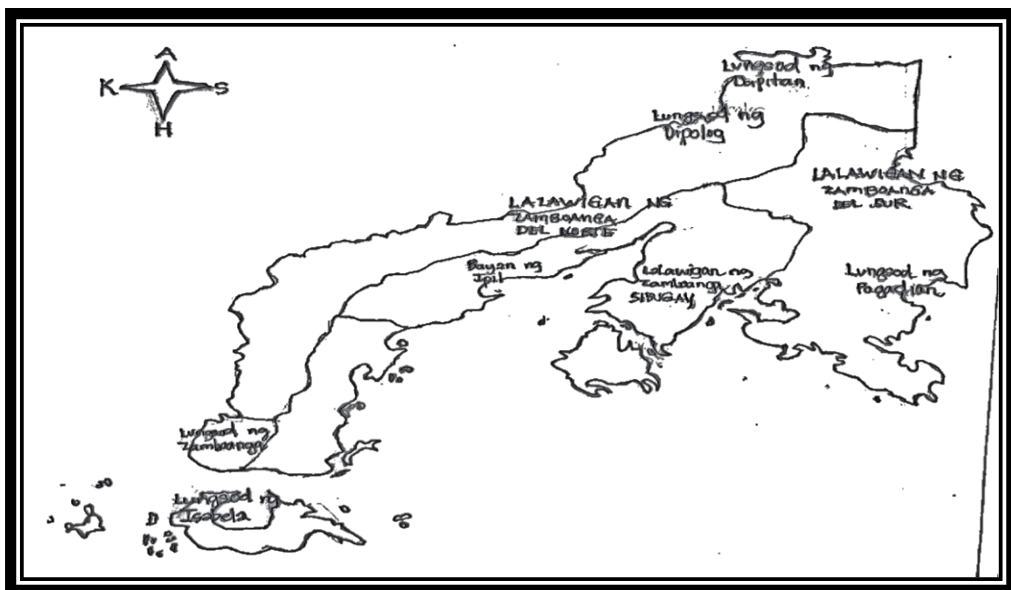
Sa susamang bahin ang direksiyon sa tunga-tunga sa Habagatan ug Kasadpan, kini pagatawgon ug **Habagatang Kasadpan (HK)**.

Ang **Amihanang Kasadpan (AK)**, anaa sa tunga-tunga sa Amihanan ug Kasadpan.

Tan-awa ang “Compass Rose” nga adunay una ug ikaduhang direksiyon. Kung molantaw kita sa mapa, dili pwede nga ibutang ang insaktong distansiya sa matag usa ka lugar. Ang mga tiggama ug mapa, nagamit ug iskala aron ipakita ang distansiya sa mga lugar sa mga mapa. Makita ang timailhan sa ubos nga bahin sa mapa susama sa anaa sa iskala.



**Susiha:**





## ***Kat – oni pa Kini***

**Buluhaton 1:** Isulat ang gipangayo kada instrumento na nakalista sa Kolum ug tubaga ang pangutana.

<b>Pangutana</b>	<b>Mga Simbolo</b>		
	<b>North Arrow</b>	<b>Compass</b>	<b>Compass Rose</b>
1. Unsa nga direksyon ang gipakita sa mga nahisulat sa tuong bahin			
2. Ngano nga importante ang mga instrumentong nalista sa tuo?			

### **Buluhaton 2:**

Lantawa pag-usab ang “**Compass Rose**”. Tubaga ang mga pangutana.

1. Unsa ang unang direksiyon?

\_\_\_\_\_

\_\_\_\_\_

2. Unsa ang mga Ikaduhang direksiyon?

\_\_\_\_\_

\_\_\_\_\_

3. Unsaon nga makaplagan nato ang isaktong lokasyon?

\_\_\_\_\_

\_\_\_\_\_

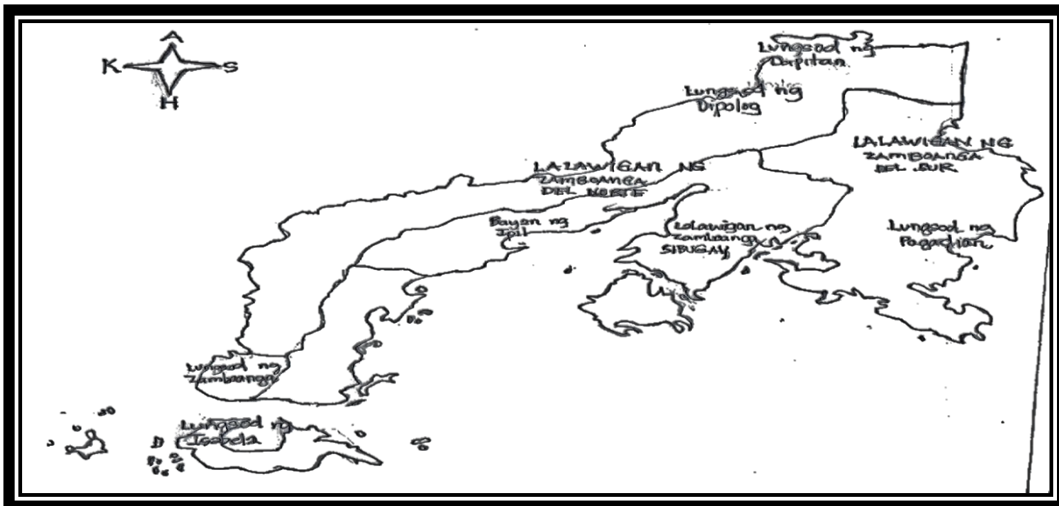


## Timan – I Kini

- Ang mga unang direksiyon ay ang **Amihanan, Habagatan, Sidlakan, Kasadpan.**
- Ang mga ikaduhang direksiyon ay ang **Amihanang Sidlakan, Amihanang Kasadpan, Habagatang Sidlakan, Habagatang Kasadpan.**
- “**Compass**” – Instrumento na kanunay nagatudlo sa Amihanan
- “**North Arrow**” – Adunay mga mapa na nagamit ug north arrow aron itudlo kung asa ang amihanan.
- “**Compass Rose**” – Gipakita niini ang cardinal na direksiyon o unang direksyon.



## Buhata Kini



**Direksyon:** Lantawa ang mapa sa Zamboanga Peninsula o Rehiyon 9. Tubaga ang mga pangutana. Isulat ang letra sa insaktong tubag sa papel.

1. Sa gipakita sa mapa, unsang probinsya ang anaa sa pinakasadpang bahin sa rehiyon?  
A. Zamboanga del Sur                      C. Zamboanga Sibugay  
B. Zamboanga del Norte                 D. Lungsod ng Zamboanga



2. Unsa ang mga lungsod na makita sa pinakaamihanang parte sa rehiyon?
- A. Lungsod ng Pagadian ug Lungsod ng Zamboanga
  - B. Lungsod ng Dipolog ug Lungsod ng Dapitan
  - C. Lungsod ng Dapitan ug Lungsod ng Pagadian
  - D. Lungsod ng Pagadian ug Lungsod ng Dipolog



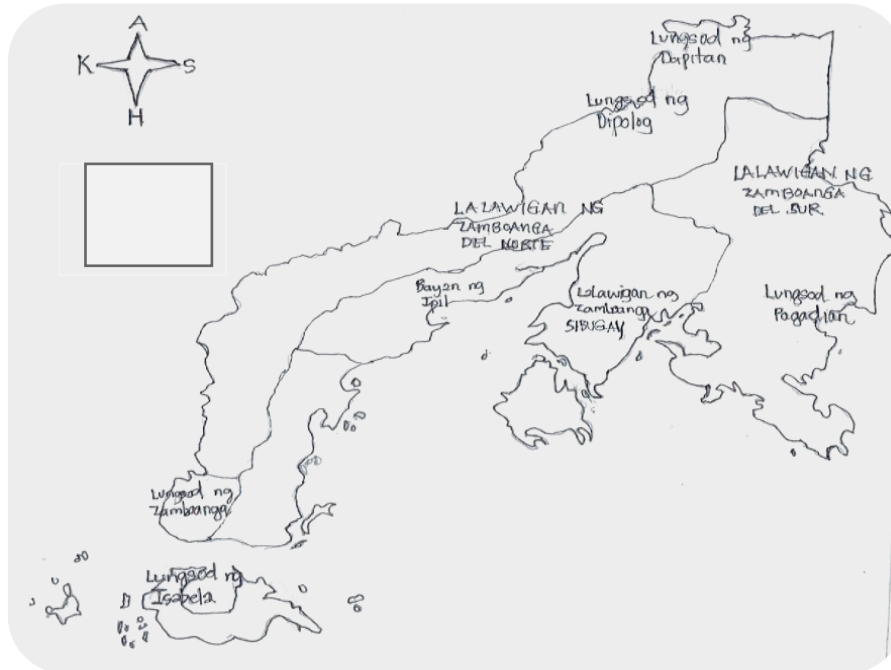
## ***Tubaga Kini***

**Direksiyon:** Isulat ang letra sa insaktong tubag sa inyong papel.

1. Unsa pa ang ubang tawag sa unang direksiyon?
  - A. North Arrow
  - B. Bisinal na direksiyon
  - C. Cardinal na direksiyon
  - D. Ordinal na direksiyon
2. Asa niini ang timailhan para sa Amihanang Kasadpan?
  - A. S
  - B. AK
  - C. HK
  - D. HS
3. Kada mapa, adunay simbolo na kanunay nagtudlo sa direksiyong \_\_\_\_\_.
  - A. Habagatan
  - B. Amihanan
  - C. Sidlakan
  - D. Kasadpan
4. Unsa ang laing tawag sa ikaduhang direksiyon?
  - A. Bisinal na direksiyon
  - B. North Arrow
  - C. Cardinal na direksiyon
  - D. Ordinal na direksiyon
5. Kung ihulagway ang ikaduhang direksiyon, isulti una ang direksiyong \_\_\_\_\_.
  - A. Cardinal
  - B. Bisinal
  - C. Relatibo
  - D. Silangan



## Buhata Pa Kini:



Lantawa ang mapa, isulat ang tubag sa kada blanko sa papel.

1. Ang probinsya o lalawigan na \_\_\_\_\_ ay anaa nahimutang sa kasadpan ng Zamboanga del Sur.
2. Pila ka lungsod ang nahisakop sa rehiyon ng Zamboanga Peninsula? \_\_\_\_
3. Sa unsang direksiyon makita ang mga lungsod sa:
  - a. Lungsod sa Pagadian \_\_\_\_\_
  - b. Lungsod sa Dipolog \_\_\_\_\_
  - c. Lungsod sa Zamboanga \_\_\_\_\_
  - d. Lungsod sa Dapitan \_\_\_\_\_
  - e. Lungsod sa Isabela \_\_\_\_\_



# Tubag sa mga Pangutana

Susi sa Pagwasto

**Subukin:**

- B
- D
- A
- C
- B

**Balikan:**

- Amihanan, Habagatan, Kasadpan, Sidlakan
- Amihananang Sidlakan, Amihananang Kasadpan, Habagatang Sidlakan, Habagatang Kasadpan

**Gawain 1:**

**Compass Rose**

- aron makita ang direksiyon

**Gawain 2**

- 1 Amihanan, Habagatan, Kasadpan, Sidlakan
- 2 Amihananang Sidlakan, Amihananang Kasadpan, Habagatang Sidlakan, Habagatang Kasadpan
- 3. Moga mit ug Compass

**Isagawa:**

- D
- B

- Karagdagan gawain:
- 1. Zambaonga Del Norte
- 2. A 6
- B

**Tayahin:**

- C
- B
- B
- D
- A

- \* Sidlakan
- \* Amihanan
- \* Kasadpan
- \* Amihanan
- \* Habagatan

## **Sanggunian**

Araling Panlipunan 3  
Kagamitan ng mag-aaral  
Rehiyon IX – Zamboanga Peninsula  
Kagawaran ng Edukasyon Republika ng Pilipinas  
Inilathala ng Kagawan ng Edukasyon

Kalihim : Leonor Magtulis Briones

Pangalawang Kalihim: Diosdado M. San Antonio

Tagasuri: Nelson S. Lasagas, Monina R. Antiquina  
Mga Manunulat: Cerilyd Dejerio-Balsamo, Leah  
Mabanag Silod, Bryan Pilapil Telempros, Aldiomere Jay  
Dela Cruz Apepe, Florence S. Gallemmit, Jerlie C.  
Tabiliran, Ma. Teresa C. Briones, Melanie B. Bantilan,  
Regina M. Rago, Edencita B. Zamora, Arcelita B.  
Zamoras, Alma L. Carbonilla, Roseville T. Makasiar,  
Eddie J. Albor Jr.

Tagaguhit: Rabbi Happy Z. Pronco, Amphy B. Ampong, Jomar P.  
Richa, Joenel L. Vilalas, Wilvin H. Inding, Vergil S.  
Manalili, Danilo C. Gonzales Jr., Edwin C. Oritz,  
Arnulfo A. Santisas, Eladeleah E. Pacaña, Rey T.  
Cameon, Noliben D. Gallegos, Elvie A. Ordeniza,  
Lilibeth Magdale-Ruelo

Representante ng Rehiyon at Dibisyon: Eugenio B. Penales,  
Sonia D. Gonzales, Allan M. Esber, Florencio R.  
Caballero, Jusere Ann C. Basaya, Florence S. Gallemmit

Tagapamahala: Bureau of Learning Delivery  
Bureau of Learning Resources  
CLMD – Learning Resource Management Section  
(LRMS) – Rehiyon X